


























Cherche toutes les voitures que l'on peut fabriquer.

3

Lola et Sami ont commandé des jouets.

4

					
					
Lola	✗		✗	✗	
Sami		✗		✗	✗

Calcule ce que doit payer Lola.

Calcule ce que doit payer Sami.

Lola doit payer ..... euros.

Sami doit payer ..... euros.

Le nombre mystère: entoure l'étiquette qui ne correspond à aucune addition.

$8 + 3$

$6 + 3$

$9 + 3$

$7 + 3$

9

10

11

13

12